



ヨーロッパ人との 出会いと全国統一①

(教科書 P.92~95)

①・②の場所
はどこかな？
()に番号
を書こう。



満点社会前半

要点を整理しよう

わからないときは教科書などで調べよう

① キリスト教世界とルネサンス

教科書 P.92,93

中世ヨーロッパと十字軍

ルネサンスと宗教改革

- 古代のローマ帝国がほろびると、ヨーロッパでは(①)教会が人々の精神的な支えになった。ビザンツ帝国と結びついた正教会と、(②)教皇(法王)を中心としたカトリック教会があり、西ヨーロッパ諸国は後者と結びつき、勢力をのぼした。
- アラビア半島や西アジアを中心に(③)が広まった。
- イスラム勢力に聖地エルサレムがうばわれると、教皇の呼びかけにこたえて(④)が編成された。
- ギリシャ、ローマの古代文明を学びなおす文芸復興を意味する(⑤)がおこった。
- 16世紀はじめに教皇が免罪符を売り出すと、これを批判して、ドイツの(⑥)や、カルバンが(⑦)を始めた。→◆
- これに対して、カトリック教会内部からも立て直しをめざす動きがあり、(⑧)が結成された。

◆ルター



①	キリスト	教会
②	ローマ	教皇
③	イスラム教	
④	十字軍	
⑤	ルネサ	
⑥	ルター	
⑦	宗教改革	
⑧	プロテスタント	

② ヨーロッパと外の世界

教科書 P.94,95

ヨーロッパ人の世界進出

- 15世紀末のヨーロッパ人は、キリスト教を広めるとともに、(⑨)の豊かな物産、特に香辛料を手に入れようとしていた。
- 1498年、ポルトガルの(⑩)は、インドに到達した。
- 1492年、⑨への航路を開きたい(⑪)の援助を受けた(⑫)が大西洋を横断して、カリブ海の島に到達し、のちに、ヨーロッパ人の知らなかった(⑬)大陸を発見した。
- スペイン人は、⑬大陸の文明をほろぼし、植民地とした。
- 16世紀前半には、(⑭)の船隊が世界一周を成しとげた。
- スペイン領から独立した(⑮)が、17世紀にはヨーロッパの貿易や金融の中心となった。

⑨	アジア	
⑩	ヴァスコ・ダ・ガマ	
⑪	スペイン	
⑫	コロンブス	
⑬	アメリカ	大陸
⑭	マゼラン	の船隊
⑮	オランダ	

2 22-3 よく見る記号 Q. スペインやポルトガルが大航海に乗り出した理由は何ですか。

力をつけよう

組 番

思考・判断・表現は題、技能は図、知識・理解は無印

1 ルネサンス 次の問いに答えなさい。

- (1) **記述** ルネサンスとは、どのような動きのことですか。「古代文明」という語句を使い、簡単に書きなさい。



- (2) ルネサンスが最もさかんだったのは、どこの国ですか。
 (3) 右のA・Bの作品の作者を、次から記号で1人ずつ選びなさい。

ア カルバン イ レオナルド・ダ・ビンチ
 ウ ボッティチェリ エ ミケランジェロ

- (4) ルネサンスでは、活版印刷術や火薬などが実用化されましたが、これらは中国から [] 世界を通して、ヨーロッパに伝わったものです。 [] にあてはまる語句を書きなさい。

1

(1) **記述** 中世からルネサンスの古代文明を学びたい動き。

(2) 1500年

(3) A **イ** B **イ**

(4) **イスラム** 世界

2 ヨーロッパ人の世界進出と宗教改革 次の問いに答えなさい。

- (1) 地図中のA～Cの航路を開いた人物名・船隊名をそれぞれ書きなさい。



- (2) ①・②を植民地としたのは、どこの国ですか。
 (3) アジアに進出したヨーロッパ人は、おもに何を買い入れましたか。1つ書きなさい。

- (4) ①Pの地で宗教改革を始めたドイツ人はだれですか。②この人物のような人たちは、カトリックに対し、何と呼ばれましたか。
 (5) **記述** イエズス会が結成された目的は何ですか。簡単に書きなさい。

2

(1) A **コロンブス**
 B **マゼラン**
 C **ダマスカス**

(2) ① **スペイン**
 ② **ポルトガル**

(3) **香辛料**

(4) ① **ルター**
 ② **プロテスタント**

(5) **カトリック教会を改革するため。**

ステップUp 資料を活用しよう



- (1) ヨーロッパの王や貴族に、十字軍の遠征を呼びかけたのはだれですか。
 (2) **記述** 十字軍が派遣された目的は何ですか。地図の十字軍の進路を参考に、簡単に書きなさい。

(1) **1-2 教皇**



(2) **キリスト教の聖地であるエルサレムをうばい返すため。**

A. アジアの物産を、イスラム商人の手を経ないで直接手に入れるため。



安土城(復元図)(滋賀県)…①

ヨーロッパ人との 出会いと全国統一②

(教科書 P.96~99)

①・②の場所
はどこかな?
()に番号
を書こう。



1543 1549 1573 1575 1576 1582 // 1587 1590

鉄砲が種子島に伝わる…①

安土城が築かれる

長篠の戦いが起こる

室町幕府がほろびる

ザビエルがキリスト教を伝える

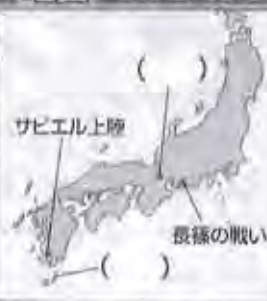
豊臣秀吉が全国を統一する

バテレン追放令が出される

織田信長が本能寺で自害する

天正遣欧少年使節が派遣される

地図でおさえよう



要点を整理しよう

わからないときは教科書などで調べよう

① ヨーロッパ人との出会い

鉄砲の伝来

キリスト教と南蛮貿易

- 1543年、ポルトガル人を乗せた中国の船が(①)に流れ着き、(②)を伝えた。
- ②は(③)(大阪府)や国友(滋賀県)などでつくられるようになった。→①
- 1549年、イエズス会の宣教師である(④)が、キリスト教を伝えるため日本に来た。
- ポルトガル人やスペイン人は南蛮人と呼ばれ、(⑤)(長崎県)や長崎などに来航し、(⑥)貿易が始まった。
- 貿易の利益に着目した九州各地の戦国大名には、キリスト教徒になる者もあらわれ、(⑦)大名と呼ばれた。
- 1582年、大友宗麟などの⑦大名が派遣した使節として、4人の少年がローマ教皇のもとへ行った。この使節を(⑧)という。

①鉄砲鍛冶



①

- | | |
|---|-----------|
| ① | 種子島 |
| ② | 鉄砲 |
| ③ | 堺 |
| ④ | ザビエル・ザビエル |
| ⑤ | 平戸 |
| ⑥ | 南蛮 貿易 |
| ⑦ | 大名 大名 |
| ⑧ | 天正遣欧少年使節 |

② 織田信長・豊臣秀吉による統一事業

織田信長

豊臣秀吉

- 桶狭間の戦いに勝った(⑨)は、1573年に将軍足利義昭を追放して、(⑩)幕府をほろぼした。
- ⑨は、鉄砲を有効に使った(⑪)で武田勝頼を破った。→②
- 安土城の城下で、(⑫)を実施した。
- ⑨の死後、(⑬)を築いて本拠地とした
- (⑭)は、1590年に全国を統一した。
- ⑨は、仏教の僧より、キリスト教の宣教師を優遇した。これに対し⑭はキリスト教の布教を危険視し、1587年に(⑮)を出して、宣教師の国外追放を命じた。

②鉄砲を持つ足軽



②

- | | |
|---|-----------|
| ⑨ | 織田信長 |
| ⑩ | 室町幕府 幕府 |
| ⑪ | 長篠の戦い |
| ⑫ | 聚楽・聚楽 |
| ⑬ | 大坂城 |
| ⑭ | 豊臣秀吉 |
| ⑮ | (バテレン)追放令 |

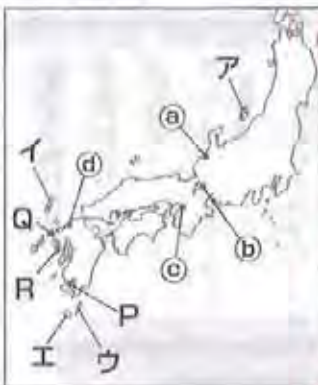
力をつけよう

組 番

1 ヨーロッパ人との出会い 次の問いに答えなさい。

思考・判断・表現は◎、技能は◎、知識・理解は無印

- 鉄砲を伝えたポルトガル人が流れ着いた島を、地図中のア～エから1つ選び、記号と島名を書きなさい。
- 鉄砲の威力に注目し、実戦に使ったのはどのような人たちですか。
- 鉄砲がさかんにつくられた場所を、地図中のa～dから2つ選びなさい。
- 記述** 1549年に、地図中のPに上陸した右下の人物が日本に来た目的を、簡単に書きなさい。
- 地図中のQやRの港で行われた貿易での日本のおもな輸出入品を、次から1つずつ選びなさい。
 - 輸入品 [刀剣 銅銭 生糸 陶磁器]
 - 輸出品 [金 銀 毛織物 ガラス製品]




記号	ア	◎
(1) 島名	種子島	◎
(2)	戦国大名	◎
(3)	① ②	◎
(4)	キリスト教を 広めるため。	◎
①	生糸	◎
(5) ②	銀	◎

2 全国統一への歩み 次の問いに答えなさい。

- 右の資料は、織田信長と武田勝頼の戦いの様子です。この戦いを何といいますか。
- 記述** 織田信長の軍はA・Bのどちらですか。また、そのように考えた理由を、簡単に書きなさい。
- この戦いのころに起きたできごとを、年代の古い順に並べなさい。

ア 室町幕府がほろびる。	イ 全国統一が完成する。
ウ 織田信長が本能寺で自害する。	エ 安土城が築かれる。



(1)	長篠の戦い	◎
記号	A	◎
(2) 理由	鉄砲を使って 戦っているから。	◎
(3)	ア → エ → ウ → イ	◎

ステップUp 資料を活用しよう

- 資料は、ポルトガル人やスペイン人などの商人が上陸している様子です。彼らは何と呼ばれましたか。
- 記述** 九州各地の大名は、絵のような船が領内の港に来ることを許しました。その理由を、簡単に書きなさい。



(1)	南蛮人	◎
-----	-----	---



これらの船は何をもたらしたのかな。

(2) 貿易の利益に着目しているから。

A. 戦国大名が新しい武器として注目したから。



姫路城(兵庫県)…①

ヨーロッパ人との 出会いと全国統一③

(教科書 P.100~103)

①・②の場所
はどこかな？
()に番号
を書こう。



1582	1583	1588	1592	1597	1603
南蛮文化が伝えられる	太閤検地が始まる	大阪城の築城が始まる…②	刀狩が行われる	桃山文化が栄える	出雲の阿国がかぶき踊りを始める
			慶長の役 文禄の役	朝鮮侵略	

地図でおさえよう



要点を整理しよう

わからないときは教科書などで調べよう

1 兵農分離と朝鮮侵略

教科書 P.100,101

検地と刀狩

朝鮮侵略

- 豊臣秀吉は、それまでまちまちだった、ものさしや(①)の大きさを統一するとともに、(②)を行い、全国の田畑の面積や土地のよしあしを調べ、予想される収穫量を、すべて米の体積である(③)であらわした。→①
- 1588年、(④)を命じて、農民や寺社から武器を取り上げた。武力による(⑤)を防ぎ、耕作に専念させるためである。
- ②と④の政策によって、武士と農民との身分の区別がはっきりした。これを(⑥)という。
- 秀吉は、(⑦)の征服をめざし、1592年と1597年の二度にわたって隣国の(⑧)に大軍を派遣したが、民衆による義兵の抵抗運動や李舜臣の水軍により、苦戦した。

①京ます



(内側の一切約15.5cm)

①	ます
②	太閤検地
③	石高
④	刀狩
⑤	一揆
⑥	兵農分離
⑦	明
⑧	朝鮮

2 桃山文化

教科書 P.102,103

豪華で壮大な文化とヨーロッパ文化の影響

- 下剋上で成り上がった(⑨)や大商人たちの権力や富を背景に栄えた、豪華で壮大な文化を(⑩)文化という。
- 高くそびえる(⑪)を持つ城がつくられ、内部には、「唐獅子図屏風」の作者(⑫)らがふすまや屏風にはなやかな絵をえがいた。
- 茶の湯では、秀吉に仕えた堺の商人出身の(⑬)が、質素なわび茶の作法を完成させた。
- 琉球から三線が伝わり、三味線がつくられた。また出雲の阿国の(⑭)が人気を集めた。→②
- 南蛮貿易や宣教師が伝えたヨーロッパの文化の影響で成立した芸術や流行の風俗を、(⑮)文化という。

⑭かぶき踊り



⑨	大名
⑩	桃山文化
⑪	天守
⑫	狩野宗徳
⑬	千利休
⑭	かぶき踊り
⑮	南蛮文化

力をつけよう

組 番

1 豊臣秀吉の統一事業 次の問いに答えなさい。

思考・判断・表現は題、技能は図、知識・理解は無印

(1) 右の資料は、豊臣秀吉が1588年に出した法令です。次の問いに答えなさい。

- ① 何という法令ですか。
- ② []にあてはまる語句をそれぞれ書きなさい。
- ③ **記述** この法令で示されている政策を実施したのは、何のためですか。簡単に書きなさい。
- ④ この政策と太閤検地により、兵農分離が進み、[]と農民の身分の区別がはっきりしました。[]にあてはまる語句を書きなさい。

諸国の百姓が (a) やわきざし、弓、やり、鉄砲、そのほかの武具などを持つことは、かたく禁止する。不必要な武具をたくわえ、年貢その他の税をなかなか納入せず、ついには (b) をくわだてたりして、領主に対してよからぬ行為をする者は、もちろん処罰する。



①	刀狩令	題
(a)	刀	題
②	(b) 一揆	題
(1)	武力による	無
③	一揆を防ぎ、耕作に専念させるため。	無
④	武士	無
(2)	朝鮮侵略	無

(2) 右の写真は、有田焼の皿です。この有田焼の始まりと関係のあるできごとを、次から1つ選びなさい。

- [南蛮貿易 朝鮮侵略 鉄砲の伝来 パテレン追放令]

2 桃山文化 次の問いに答えなさい。

- (1) 安土城や大阪城などの壮大な城には、支配者の権威を示すための何がつくられましたか。
- (2) 次の①～③の文にあてはまる人物名を、それぞれ書きなさい。
 - ① 豊臣秀吉に仕え、質素なわび茶の作法を完成させた。
 - ② 「唐獅子図屏風」の作者で、城のふすまや屏風にはなやかな絵をえがいた。
 - ③ 17世紀はじめ、京都でかぶき踊りを始め、人気を集めた。

(1)	天守	無
①	千利休	無
(2)	② 狩野宗徳	無
③	出雲の阿国	無

ステップUp 資料を活用しよう



(江戸時代の検地の様子)

- (1) 絵と同じように行われたと考えられる太閤検地では、予想される収穫量を米の体積であらわしました。この体積のことを何といいますか。
- (2) 武士は(1)に応じて年貢を取る権利を持つかわり、これに応じた何を果たすことが義務づけられましたか。

(1)	石高	無
(2)	軍役	無



太閤検地によって、奈良時代以来の荘園はなくなりました。

(3) **記述** 太閤検地により変わったことを、「土地の所有権」という語句を使い、簡単に書きなさい。

(3) 検地帳に登録された農民には、土地の所有権が認められたこと。

A. 豪華で壮大な文化であること。



日光東照宮(栃木県)…①

江戸幕府の成立と鎖国①

(教科書 P.104-107)

①・②の場所はどこかな?
()に番号を書こう。



1600	1603	1614	1615	1615	1635	1649
関ヶ原の戦いが起こる	徳川家康が征夷大将軍になる ↓江戸幕府の成立	大阪冬の陣が起る	大阪夏の陣が起る ↓豊臣氏がほろびる	武家諸法度が制定される	禁中並公家諸法度が制定される	参勤交代が制度化される




要点を整理しよう

わからないときは教科書などで調べよう

① 江戸幕府の成立と支配のしくみ

教科書 P.104,105

- 1600年、(①)に勝利した(②)は、1603年に朝廷から(③)に任命され、江戸に幕府を開いた。以後260年余りを(④)時代という。(②)は、二度の大阪の陣で、(⑤)氏をほろぼした。
- 幕府の直接の支配地である(⑥)は全国の石高の約4分の1をしめ、重要な都市や鉱山なども幕府が直接支配した。また、日本橋に始まる(⑦)を整備した。
- 大名とは将軍から1万石以上の領地をあたえられた武士で、その領地と支配のしくみを(⑧)という。
- 幕府の政治は、老中や若年寄、三奉行などが行った。→④
- 幕府は(⑨)を定め、大名を統制した。徳川家光のときに(⑩)が制度化され、大名は1年おきに領地と江戸を往復した。



①	関ヶ原の戦い	
②	徳川家康	
③	征夷大将軍	
④	江戸	時代
⑤	豊臣	氏
⑥	幕領	
⑦	五街道	
⑧	幕	
⑨	武家諸法度	
⑩	参勤交代	

② さまざまな身分とくらし

教科書 P.106,107

- 身分が武士・(⑪)・町人に大きく分けられ、武士は支配身分として、(⑫)・帯刀の特権を持った。→②
- 百姓は、土地を持つ(⑬)と土地を持たない水のみ百姓との区別があった。
- 幕府は、安定して(⑭)を取るため、土地の売買の禁止などのほか、(⑮)の制度で、犯罪の防止や⑭の納入に連帯責任を負わせた。
- えた身分、ひにん身分などの人々は、厳しく差別された。



⑪	百姓
⑫	刀
⑬	水田
⑭	年貢
⑮	五刑組

B 82-3 ② 大きく異なる ① Q. 外様大名とはどのような大名ですか。徳川氏との関係にふれて、簡単に書きなさい。

力をつけよう

組 番

1 江戸幕府の成立と支配のしくみ 次の問いに答えなさい。 思考・判断・表現は○、技能は△、知識・理解は無印

- (1) 江戸幕府の将軍のもとで政治を行った、常時の最高職を何といいますか。
- (2) (1)は、親藩・譜代大名・外様大名のうち、おもにどの大名が担当しましたか。
- (3) 親藩の中でも紀伊・尾張・水戸家は、とくに何と呼ばれましたか。
- (4) **記述** 上の資料を見て、外様大名の配置の特徴を「江戸」という語句を使い、簡単に書きなさい。



(1)	幕中
(2)	譜代大名
(3)	御三家
(4)	江戸から離れたところに配置されている。

2 さまざまな身分と暮らし 次の問いに答えなさい。

- (1) 右の資料は、百姓の生活心得を示したものです。次の問いに答えなさい。
 - ① 資料中の□にあてはまる語句を書きなさい。
 - ② **記述** 幕府がこの資料のような心得を出した目的を、簡単に書きなさい。
- (2) 次の文の()にあてはまる語句を書きなさい。
 農村では、有力な本百姓は(①)や組頭、百姓代などの村役人となり、村の自治をになった。また、幕府は、(②)の制度をつくり、犯罪の防止や年貢の納入に連帯責任を負わせた。

朝は早く起きて草をかり、昼は田畑の耕作をし、晩には縄をない。俵を編み、それぞれの仕事に気をぬくことなくはげむこと。
 酒や茶を買って飲まないようにせよ。
 百姓は雑穀を食べ、(a) を多く食いつぶさぬようにせよ。
 百姓の衣類は、麻と (b) に限る。(部分)

(1)	(a) 米 (b) 木綿
(2)	① 外食をちかんと ② おいさせるため
(1)	土屋
(2)	町/組

ステップUp 資料を活用しよう

- 一 学問と武道にひたすら精を出すようにしなさい。
- 一 諸国の (a) は、修理する場合であっても、必ず幕府にもうし出ること。まして新しい (a) をつくることは厳しく禁止する。
- 一 幕府の許可なしに、(b) を結んではならない。(部分要約)

- (1) 1615年に制定された左の資料は、何という法律ですか。
- (2) (1)の法律は、どのような人々を統制しましたか。
- (3) 資料中の□にあてはまる語句を書きなさい。
- (4) **記述** 1635年に、この法律に参勤交代が制度として定められました。これにより(2)の人たちが受けた影響を、費用に着目して、簡単に書きなさい。

(1)	士家諸法度
(2)	大名
(3)	(a) 城 (b) 婚姻

(4) 参勤交代の制度により、江戸での生活に多くの費用がかかるようになった。

A. 関ヶ原の戦い以後に徳川氏に従った大名。

江戸幕府の成立と鎖国②

(教科書 P.108~111)

①・②の場所はどこかな？
()に番号を書こう。



出島(長崎県)…①

1612 1613 1635 1637 1639 1641 1669

- 1612 シヤクシャインが戦いを起こす
- 1613 平戸のオランダ商館を長崎の出島に移す
- 1635 ポルトガル人を追放する
- 1637 島原・天草一揆が起る
- 1639 日本人の海外渡航と帰国を禁止する
- 1641 全国にキリスト教禁止令を幕領にキリスト教禁止令
- 1669 朝鮮通信使が来日する
- 朱印船貿易が奨励される

地図でおさえよう



要点を整理しよう

わからないときは教科書などで調べよう

① 貿易の振興から鎖国へ

教科書 P.108,109

朱印船貿易と日本町

禁教と貿易統制

鎖国

- 徳川家康は日本船の渡航を許す(①)を発行し、(②)貿易を奨励した。これにより東南アジア各地に(③)ができた。→◆
- 家康はオランダやイギリスとの貿易も許したので、(④)に商館が設けられ、貿易が始まった。
- 幕府は1612年、幕領に(⑤)令を出し、キリスト教の迫害を始めた。
- 第3代将軍(⑥)は日本人の海外渡航と帰国を禁止し、長崎の町中に住んでいたポルトガル人を(⑦)に移した。
- 1637年、キリスト教徒への迫害や、重い年貢の取り立てに苦しむ島原や天草の人々は、天草四郎を大将に(⑧)を起こした。
- 1639年、(⑨)人を追放し、1641年には平戸の(⑩)商館を長崎の出島に移した。このような体制を(⑪)と呼ぶ。



①	朱印林	
②	朱印船	貿易
③	日本町	
④	平戸	
⑤	キリシタン禁止令	令
⑥	徳川家光	
⑦	出島	
⑧	島原・天草一揆	
⑨	ポルトガル	人
⑩	オランダ	商館
⑪	鎖国	

② 鎖国下の対外関係

教科書 P.110,111

中国とオランダ

朝鮮と琉球・アイヌ民族

- 17世紀半ば、中国大陸では明がほろび、中国東北部の女真族が(⑫)を建国し、中国全土を支配下に置いた。
- 日本は、中国や、(⑬)の布教を行わないオランダと、長崎で貿易を行った。
- 対馬藩の努力で日本と国交を回復した朝鮮からは、将軍の代がわりごとに(⑭)が来日した。
- 薩摩藩に攻められ服属した(⑮)は、明や清にも朝貢し、貿易も行った。将軍や国王の代わりがあると使節を江戸に送った。
- 松前藩は、蝦夷地の(⑯)民族との交易を独占した。不公平な交易に不満を持ち、シヤクシャインが戦いを起こした。

⑫	清	
⑬	キリシタン	
⑭	朝鮮通信使	
⑮	琉球王国	
⑯	アイヌ	民族

10 ②-3 よく出る問題 Q. 東南アジアに多くの日本町がつけられたのは、どのような背景からですか。

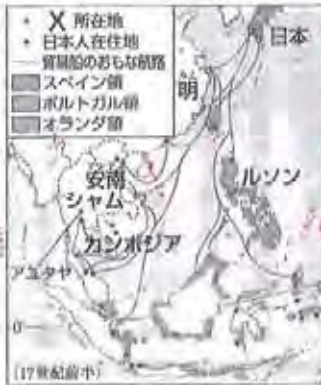
力をつけよう

組 番

思考・判断・表現は題、技能は題、知識・理解は無印

1 貿易の振興 次の問いに答えなさい。

- 右の地図中の——は、徳川家康に渡航許可証をあたえられた、西日本の大名らが派遣した貿易船の航路です。この貿易船を何といますか。
- (1)による貿易が活発になると、東南アジア各地に日本人が移住して、町をつくりました。地図中のXにあてはまる、この町を何といますか。
- (2)の町の1つアユタヤでは、山田長政が活躍しました。アユタヤは、現在の何という国にありましたか。

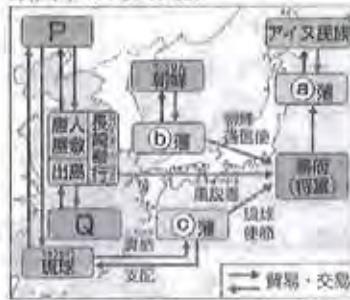


(1)	朱印船	題
(2)	日本町	
(3)	タイ	

2 鎖国への歩みと鎖国下の対外関係 次の問いに答えなさい。

- 鎖国の体制が完成するまでの次のできごとを、年代の古い順に並べなさい。
 ア ポルトガル人を追放する。
 イ オランダ商館を長崎に移す。
 ウ 幕府にキリスト教禁止令を出す。
 エ 島原・天草一揆が起こる。

鎖国下の対外関係



- 鎖国が完成したのちも日本が長崎で貿易を行った。図中のP、Qにあてはまる国名を書きなさい。
- 図中の①～③にあてはまる藩名を、それぞれ書きなさい。
- 図中の④の藩との不公平な交易に不満を持ったアイヌ民族は、1669年、だれを首長として戦いを起こしましたか。
- 〔記述〕 図中の朝鮮通信使が日本に来たのは、おもにどのようなときですか。簡単に書きなさい。

(1)	ら → P → Q → ア → イ	題
(2)	P 青	
	Q 長崎	
	① 松前	藩 題
	② 村馬	藩 題
	③ 徳島	藩 題
(4)	シロコシヤイン	
(5)	将軍の代が おわるとき	題

ステップUp 資料を活用しよう



- 左の銅板の表面には、だれが彫られていますか。次から1人選びなさい。
 [キリスト シャカ ムハンマド]
- 長崎で毎年行われた、役人の前でこの銅板のような像をふませたことを何といますか。
- 〔記述〕 幕府が(2)を行ったのは何のためですか。簡単に書きなさい。

(1)	キリスト	題
(2)	絵踏	



(3)	キリストを信じるため	題
-----	------------	---

A. 江戸幕府が朱印船貿易を奨励し、多くの日本人が東南アジアに移住したこと。

産業の発達と幕府政治の動き ①

(教科書 P.112~115)

①・②の場所はどこかな？
()に番号を書こう。



1619 1680 1687 1689 1703

地図でおさえよう

満点社会模範

要点を整理しよう

わからないときは教科書などで調べよう

① 農業や諸産業の発達

教科書 P.112,113

農業の進歩

- 幕府や藩は、土地の開墾に力を注ぎ、用水路をつくるなどして(①)を開発した。農民の努力もあり、耕地面積は、18世紀はじめには、豊臣秀吉のころの約(②)倍に増えた。
- 深く耕せる(③)や脱穀用の(④)、唐箕などの農具の発明・改良により農業の生産力が向上した。
- 鉱山の採掘や精錬技術が進み、佐渡金山(新潟県)や(⑤)銀山(鳥根県)などが開発された。
- 金座や銀座で(⑥)や銀貨をつくり、全国の錢座でつくった寛永通宝を流通させた。→①
- 水産業では、九十九里浜(千葉県)でいわし漁がさかんになり、とれたいわしは(⑦)と呼ばれる肥料に加工された。
- 海運業の発達により、大阪と江戸の間には、(⑧)や樽廻船が定期的に往復するようになった。

寛永通宝



諸産業の発達と交通路

①	新田	
②	約 2	倍
③	備中ぐわ	
④	唐箕	
⑤	石見	銀山
⑥	金貨	
⑦	魚鱒	
⑧	樽廻船	

② 都市の繁栄と元禄文化

教科書 P.114,115

三都の繁栄

- 三都のうち、(⑨)は「将軍のおひざもと」として人口約100万人の都市に成長した。「(⑩)」と呼ばれた大阪には、諸藩が(⑪)を置き、米や特産物を販売した。京都は、西陣織などの優れた工芸品を生産した。→②
- 徳川綱吉は儒学を奨励し、中でも(⑫)が広く学ばれた。
- 京都や大阪を中心とする上方で、町人をにない手とする(⑬)が栄えた。文学では、浮世草子の(⑭)、人形浄瑠璃の近松門左衛門、俳諧の(⑮)らが中心となった。絵画では、尾形光琳が装飾画を大成し、菱川師宣は(⑯)の祖となった。

蔵屋敷



元禄文化

⑨	江戸	
⑩	天下の台所	
⑪	蔵屋敷	
⑫	朱子学	
⑬	元禄文化	
⑭	近松門左衛門	
⑮	松尾芭蕉	
⑯	世経	

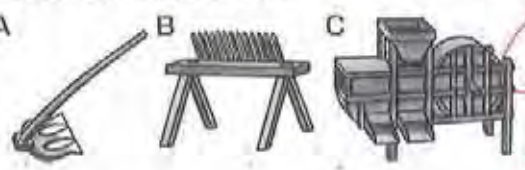
力をつけよう

組 番

1 農業や諸産業の発達 次の問いに答えなさい。

思考・判断・表現は要、技能は要、知識・理解は無印

- (1) 右のA~Cの農具 A
名を書き、それぞれの用途を次のア~ウから1つずつ選びなさい。



- ア もみを選別する イ 脱穀する ウ 土を深く耕す
(2) ①新潟県, ②兵庫県で開発が進んだ鉱山を、次から選びなさい。
[別子銅山 生野銀山 足尾銅山 佐渡金山 石見銀山]

A	備中どね	ウ	因
(1) B	歯き	イ	因
C	うみ	ア	因
①	佐渡金山		
(2)			
②	生野銀山		

2 都市・交通の発達と元禄文化 次の問いに答えなさい。

- (1) 次の①~③に関係のある都市を、右の地図中のア~カから1つずつ選び、記号と都市名を書きなさい。
① 天下の台所
② 清水焼
③ 将軍の城下町



- (2) 記述 地図中のオなどの都市に設けられた蔵屋敷は、どのような目的で置かれましたか。
(3) 地図中の④の航路, ⑤の街道を、それぞれ何といえますか。
(4) 工, オなどの都市で活躍した次の人物は、それぞれだれですか。
① 現実に起こった事件をもとに、「曾根崎心中」などを人形浄瑠璃の台本に書いた。
② 武士や町人の生活を浮世草子の「世間胸算用」などに書いた。

①	大阪	因
(1) ②	京都	因
③	江戸	因
(2)	泊藩が米や特産物を貯蔵する蔵	因
④	西廻り航路	因
(3)	⑤ 東海道	因
(4)	① 近松門左衛門	
②	井原西鶴	

ステップUp 資料を活用しよう



- (1) I, IIの作者を、それぞれ選びなさい。
[菱川師宣 松尾芭蕉
三井高利 俵屋宗達]
(2) I, IIは、それぞれ何と呼ばれていますか。次から選びなさい。
[装飾画 水墨画 浮世絵 絵巻物]
(3) 記述 17世紀後半に栄えた元禄文化の中心は、どのような人たちでしたか。簡単に書きなさい。

I	菱川師宣	
(1) II	俵屋宗達	
I	三井高利	
(2) II	松尾芭蕉	
(3)	京都や大阪を中心とした町人	因

A. 諸藩の蔵屋敷が置かれて米や特産物が売買され、商業の中心地だったから。



長崎での貿易①

産業の発達と幕府政治の動き②

(教科書 P.116~119)

①・②の場所はどこかな？
()に番号を書こう。

1716	1742	1772	1782	1787	1792	1804	1808
徳川吉宗が享保の改革を始める	田沼意次が老中になる	天明のさきんが起る	公事方御定書が制定される	松平定信が寛政の改革を始める	ロシアのラクスマンが根室に来航する……	ロシアのレザノフが長崎に来航する	間宮林蔵が樺太を探検する

地図 でおさえよう

要点を整理しよう

わからないときは教科書などで調べよう


1 享保の改革と社会の変化

教科書 P.116,117

享保の改革

貨幣経済の広がり・百姓一揆

- 第8代将軍徳川吉宗が行った改革を(①)という。
- 参勤交代で大名が江戸にいる期間を1年から半年に短縮するかわりに米を献上させる(②)の制を定めた。さらに(③)という裁判の基準となる法律を定めた。 **工場制手工業**
- 農村への(④)経済の広がり、自給自足の農村にも変化が見られた。土地を手放して小作人となる者が多くなる一方で、土地を買い集めて(⑤)となる者も増えていった。
- 農村では、18世紀ごろから(⑥)が発達した。19世紀ごろからは、分業による(⑦)(マニユファクチュア)が始まり、これが近代工業発展の基礎となった。→◆
- 18世紀になると、多くの村が団結して、年貢の軽減などを求める(⑧)が起り、都市では商人に対する(⑨)が起った。



①	享保の改革
②	上げ米の制
③	公事方御定書
④	貨幣 経済
⑤	地主
⑥	閉鎖制家内工業
⑦	工場制手工業
⑧	百姓一揆
⑨	打ちこわし

2 田沼の政治と寛政の改革

教科書 P.118,119

田沼の政治

寛政の改革・財政難

- 18世紀後半、老中となった(⑩)は、商工業者の力を利用して幕府の財政を立て直そうと、(⑪)の結成を奨励した。また、(⑫)での貿易を活発にするため、倭物の輸出の拡大に努めた。
- 1787年、老中の松平定信が始めた(⑬)では、昌平坂学問所で(⑭)以外の学問の講義を禁止した。また、政治批判を禁じたり、出版を厳しく統制したりしたので、人々の反感をかっった。
- 1792年にロシアの(⑮)が根室に来航し、通商を求めたが、幕府は長崎で交渉すると回答し、のちに鎖国を理由に断った。その後、ロシアを警戒した幕府は、蝦夷地や樺太の調査を行った。
- 財政難に苦しむ諸藩は、(⑯)という独自の紙幣を発行した。

⑩	田沼意次
⑪	株仲間
⑫	長崎
⑬	寛政の改革
⑭	朱子学
⑮	ラクスマン
⑯	藩札

力をつけよう

組 番

1 幕府政治の動き 次のA~Cについて、問いに答えなさい。 思考・判断・表現は○、技能は◇、知識・理解は無印

A 寛政の改革 B 享保の改革 C 田沼の政治

- (1) A~Cの政治を、年代の古い順に並べなさい。
- (2) A~Cの政治にあてはまるものを、次から1つずつ選びなさい。

ア 長崎貿易の奨励 イ 生類憐みの令の発布
ウ 目安箱の設置 エ 旗本などの借金の帳消し

- (3) ①右の法律を何といひますか。また、②この法律が定められたのは、A~Cのどの政治のときですか。

一人を殺しめずんだ者	引き回しの上獄門
進いばぎをした者	獄門
ぬすみをはたらいた者	死罪
金十両以上か十両以上のもの	死罪
金十両以下か十両以下のもの	入獄たつき
(部分要約)	

- (4) **記述** Cの政治では、株仲間をつくるのが奨励されました。その目的を、簡単に書きなさい。
- (5) Aの改革のとき、根室に來航して通商を求めたラクスマンは、どこの国の使節でしたか。国名を書きなさい。

1

(1) B → C → A

A I

(2) B 内

C ア

① 公事方御定書

(3) ② B

(4) 特権を与えるかわりに、税をおぼせさせるため。

(5) ロ、ア

2 農村の変化 次の問いに答えなさい。

- (1) 次の文の()にあてはまる語句を書きなさい。
農村に(①)経済が広がると、農民の間で貧富の差が拡大するようになり、土地を手放して(②)となる者が多くなった。
- (2) 次の文にあてはまる工業のしくみを書きなさい。
① 問屋が農民に織機やお金を前貸しして布を織らせ、製品を安く買い取る。
② 大商人や地主が、工場で人をやとって、分業で製品をつくる。

2

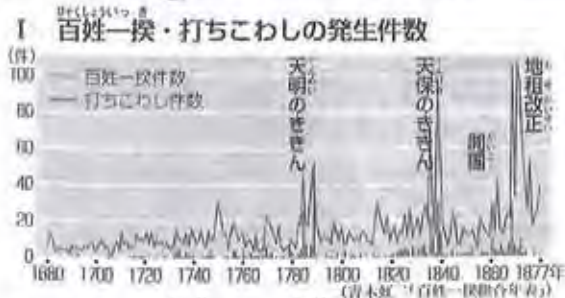
(1) ① 貨幣 経済

② 小作人

(2) ① 問屋制家内業

② 工場制手工業

ステップUp 資料を活用しよう



- (1) Iから、江戸時代の百姓一揆は、どのようなときに多く起きているということがわかりますか。
- (2) **記述** IIは、からかさ連判状といわれる一揆の連判状です。円形に署名されている理由を、簡単に書きなさい。

(1) 天明のとき



どこから書き始めたのかな。

(2) 一揆の中心人物が円形に署名したため。

A. 年貢を軽減することや不正を働く代官を交代させることなど。

産業の発達と幕府政治の動き③

(教科書 P.120~123)

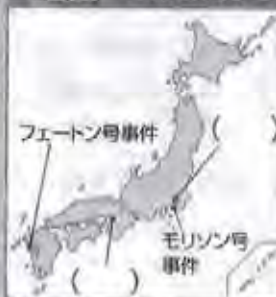
①・②の場所はどこかな？
()に番号を書こう。



反乱を起こした大塩軍(大坂府)…①

1774	1798	1821	1825	1837	1839	1841
「解体新書」が出版される	「古事記伝」が完成する	伊能忠敬の日本地図が完成する	このころ江戸を中心に化政文化が栄える…①	異国船打払令が出される	大塩の乱が起る	水野忠邦が天保の改革を始める

地図でおさえよう



要点を整理しよう

わからないときは教科書などで調べよう

① 新しい学問と化政文化

国学と蘭学

化政文化・教育

- 18世紀半ば、(①)が「古事記伝」をあらわし、(②)を大成した。
- 杉田玄白などがヨーロッパの解剖書を翻訳した「(③)」を出版し、オランダ語でヨーロッパ文化を学ぶ(④)の基礎を築いた。
- 19世紀はじめ、(⑤)が全国の海岸線を測量し、正確な日本地図をつくった。→①
- 文化・文政年間には、多色刷りの錦絵が流行し、喜多川歌麿が美人画に、「富嶽三十六景」の(⑥)や「名所江戸百景」の(⑦)などが風景画に、優れた作品を残した。
- 文芸では、世相を皮肉(⑧)や狂歌が流行した。
- 教育への関心が高まると、諸藩では(⑨)が設けられ、町や農村には庶民の教育機関として多くの寺子屋が開かれた。

教科書 P.120,121

① 伊能忠敬の地図



①

- | | |
|---|--------|
| ① | 本居宣長 |
| ② | 国学 |
| ③ | 解体新書 |
| ④ | 蘭学 |
| ⑤ | 伊能忠敬 |
| ⑥ | 富嶽三十六景 |
| ⑦ | 名所江戸百景 |
| ⑧ | 川柳 |
| ⑨ | 塾校 |

② 外国船の出現と天保の改革

異国船打払令と大塩の乱

天保の改革・雄藩

- 19世紀はじめ、イギリスの軍艦が長崎港に侵入するフェートン号事件が起こり、幕府は1825年に(⑩)を出した。
- 蘭学者の渡辺崋山と(⑪)は、外国船の打ちほらいを批判する書物を書き、幕府の厳しい処刑を受けた。→②
- 1837年、天保のききんに苦しむ人々を救うため、もと大阪町奉行所の役人(⑫)が乱を起こし、幕府に衝撃をあたえた。
- 老中水野忠邦が行った(⑬)では、町人の派手な風俗を取りしまったり、(⑭)の解散を命じたりした。
- (⑮)は、黒砂糖の専売制などで、経済力をたくわえた。→②

教科書 P.122,123



②

- | | |
|---|--------|
| ⑩ | 異国船打払令 |
| ⑪ | 高野長英 |
| ⑫ | 大塩平八郎 |
| ⑬ | 天保の改革 |
| ⑭ | 株仲間 |
| ⑮ | 薩摩藩 |

力をつけよう

組 番

1 新しい学問と文化 次問いに答えなさい。

思考・判断・表現は◎、技能は◎、知識・理解は無印

- (1) Iの作者はだれですか。
- (2) Iのような版画は、浮世絵の技術が進み、()と呼ばれる多色刷りの美しい版画が始められたことから



1

(1)	葛飾北斎	◎
(2)	錦絵	
(3)	十返舎一丸	
(4)	① 解体新書	◎
	② 杉田玄白	

- 流行するようになりました。()にあてはまる語句を書きなさい。
- (3) 「東海道中膝栗毛」を書いた人物を、次から選びなさい。
[与謝蕨村 滝沢馬琴 十返舎一丸 小林一茶]
- (4) IIは、蘭学が発達するきっかけとなった、ヨーロッパの解剖書を翻訳した書物のとびら絵です。①何という書物ですか。また、②この書物の翻訳の中心となったのはだれですか。

2 外国船の出現と天保の改革 次問いに答えなさい。

- (1) 異国船打払令により、アメリカの商船モリソン号を砲撃した事件を批判して処罰された蘭学者を、2人書きなさい。
- (2) ①異国船打払令をやめ、寄港した外国船にまきや水をあたえるように命じた老中はだれですか。また、②異国船打払令をやめたのは、清がイギリスに敗北したある戦争がきっかけでした。何という戦争ですか。
- (3) **記述** 天保の改革を行った人物が、株仲間を解散させた目的を、簡単に書きなさい。

2

(1)	渡辺崋山	
	高野長英	
(2)	① 水野忠邦	
	② アヘン戦争	
(3)	物価の上昇を おさため。	◎

ステップUp 資料を活用しよう



- (1) 19世紀前半に、長崎で医学塾を開いたオランダ商館の医者はだれですか。
- (2) 諸藩が設けた藩校のうち、水戸藩の藩校を、次から選びなさい。
[弘道館 造士館 明倫館]
- (3) 左の絵は、町や農村に多く開かれた、庶民のための教育機関の様子です。この教育機関を何といいますか。
- (4) **記述** (3)では、どのようなことが教えられましたか。簡単に書きなさい。

(1)	シボルト	
(2)	弘道館	
(3)	寺子屋	



(4) 読み書き、算数などの実用的な知識。

A. (幕領の大阪で。)もと幕府の役人が起こした反乱だから。

ポイントの整理

近世の流れと位置

●年表で時代の流れをまとめよう！()にあてはまる語句や人物名を書きましょう。

時代	室町時代		戦国時代		安土桃山時代			江戸時代						
年代	1543	1549		1573	1575	1582	1588	1590	1592 1597	1600	1603	1612		
日本のおもなできごと	●ヨーロッパ人との出会い ●は、日本と外国との関係をあらわす		●南蛮貿易が始まる		●全国統一事業		●(4)刀狩 ()が行われる			●(5)徳川家康が全国を統一する			●(6)長篠の戦いで武田勝頼を破る	
	●ポルトガル人が(1)鉄砲を伝える		●(2)ザビエルがキリスト教を伝える		織田信長が室町幕府をほろぼす		全国的に太閤検地が行われる			●朝鮮侵略(文禄の役・慶長の役)			●関ヶ原の戦いが起こる	
中国	明													
朝鮮	朝鮮													
世界のおもなできごと	マゼラン船隊が世界一周をとげる													
	ルターが宗教改革を始める													
バスコ・ダ・ガマがインドに到達する														
コロンブスがアメリカに到達する														
オランダ東インド会社設立														

⑧はアメリカ、⑨はイギリス、⑭はフランスを示す。

●地図で位置をまとめよう！ア～カと関連のある場所に記号を書きましょう。

ア 大塩の乱が起こる。◎P.16

イ 織田信長が安土城下で薬市・楽座を行う。◎P.4

ウ ポルトガル人が鉄砲を伝える。◎P.4

エ 出島でオランダ人との貿易が行われる。◎P.10

オ 徳川家康が幕府を開く。◎P.8

カ 長篠の戦いが起こる。◎P.4

◎安土城(復元)

◎出島

近世キーワード 覚えたらマシヨ

- 宗教改革
- 鉄砲
- ザビエル
- 織田信長
- 長祿の戦い
- 太閤検地
- 刀狩
- 豊臣秀吉
- 徳川家康
- 朱印船貿易
- 武家諸法度
- 参勤交代
- 島原・天草一揆
- 鎖国
- 徳川吉宗
- 享保の改革
- 田沼意次
- 寛政の改革
- 異国船打払令
- 大塩平八郎
- 天保の改革

江戸時代

1612		1615	1615	1635	1637	1641	1687	1709	1716	1742	1772	1774	1787	1825	1837	1839	1841	
幕領にキリスト教禁止令が出される		豊臣氏がほろびる (徳川幕府の) 制度が定められる	(徳川幕府の) 制度が定められる	(徳川幕府の) 制度が定められる	(徳川幕府の) 制度が定められる	オランダ商館が出島に移され、(徳川幕府の) 体制が固まる	幕府政治の改革 生類憐みの令が出される	新井白石の政治(〜16)	徳川吉宗の(徳川幕府の) 改革	公事方御定書が完成する	田沼意次が老中になる	「解体新書」が出版される	松平定信の寛政の改革(〜93)	(徳川幕府の) 改革	(徳川幕府の) 改革	渡辺華山・高野長英が処罰される	水野忠邦の(徳川幕府の) 改革	

明

清

朝鮮

アヘン戦争が起こる
 フランス革命が起こる
 フナボレオンが皇帝になる
 フランス革命が起こる
 アメリカで独立戦争が始まる
 有名革命が起こる
 イピューリタン革命が起こる

文化を比べてみよう！ ()にあてはまる語句や人物名を書きましょう。


桃山文化 安土桃山時代
 大名や大商人による豪華で壮大な文化
 絵画 障壁画(狩野永徳)
 茶の湯 (徳川幕府)
 建物 (徳川幕府)
 ▶ 壮大な天守を持つ。世界遺産に登録。



元禄文化 江戸時代前期
 京都や大阪などの上方で発達した、町人中心の文化
 文学 小説 井原西鶴
 人形浄瑠璃 近松門左衛門
 俳諧 (松尾芭蕉)
 絵画 装飾画
 俵屋宗達、尾形光琳、浮世絵、菱川師宣が始める。



化政文化 江戸時代後期
 江戸を中心に発達した、皮肉やこっけいを喜ぶ町人文化
 文学 小説 十返舎一九「東海道中膝栗毛」
 絵画 錦絵 風景画の歌川(安藤)広重、(徳川幕府)
 ①②の「富嶽三十六景」より



「文化を比べてみよう」は本誌のこのページに載っています。

マスター 並べかえ問題にチャレンジ! 近世

◆②~④を時代が古い順に並べかえて、近世の並べかえ問題にチャレンジしよう!

チャレンジ① 人物編



わたしは享保の改革で幕府の財政再建をめざしました。



わたしは、天下分け目の関ヶ原の戦いに勝ちました。



わたしは大阪城を根拠地にして全国を統一しました。



わたしは堂町幕府をほろぼし、安土城を築きました。

(エ → ウ → イ → ア)

チャレンジ② 政治編

- ② 徳川家光は、武家諸法度に参勤交代の制度を加え、さらに、鎖国の体制を完成させた。
- ① 長祿の戦いで、織田・徳川連合軍は鉄砲を有効に活用して、武田勝頼の軍を破った。
- ③ 徳川家康は、征夷大將軍に任じられると江戸に幕府を開いた。
- ④ 刀狩令が出され、兵農分離の政策が進められた。

(イ → エ → ウ → ア)

チャレンジ③ 政治編

- ③ 松平定信は、農村に倉を設けて米をたくわえさせる、検約令を出すなどの寛政の改革を行った。
- ① 老中の田沼意次は、株仲間の結成を奨励した。
- ② 徳川吉宗は、上げ米の制を定める、公事方御定書という法律をつくるなどの享保の改革を行った。
- ④ 水野忠邦は、物価引き下げのために株仲間を解散させるなどの天保の改革を行った。

(ウ → イ → ア → エ)

チャレンジ④ 外交編

- ③ 中国船とオランダ船だけが長崎で貿易を許されることになり、鎖国の体制が固まった。
- ① 南蛮貿易がさかんになり、中国やヨーロッパの品物がもたらされた。
- ② 朱印船貿易がさかんになり、東南アジア各地に日本町ができた。
- ④ ゼビエルが、日本にキリスト教を伝えた。

(エ → イ → ウ → ア)

チャレンジ⑤ 社会編

- ③ 幕府は百姓の生活心得を出し、五人組の制度をつくって、年貢納入などに連帯責任を負わせた。
- ① 天保のききんの後、百姓一揆や打ちこわしが増え、大阪では大塩の乱が起こった。
- ② 全国的な規模で、太閤検地が行われた。
- ④ 問屋が農民に織機などを貸し、製品の布などを買い取る問屋制家内工業が行われるようになった。

(ウ → ア → エ → イ)

チャレンジ⑥ 文化編



狩川師宣の「見返り美人図」。



豪華で雄大な文化が栄えた。



葛飾北斎の「富嶽三十六景」。



杉田玄白の「解体新書」。

(イ → ア → エ → ウ)

弱点攻略 マスター

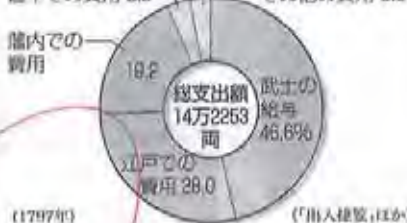
資料読み取り問題にチャレンジ! 近世

◆近世の資料読み取り問題にチャレンジしよう!

チャレンジ 1 江戸幕府による大名の統制について読み取ろう!

(1) 資料Ⅰは江戸時代の松江藩における支出の内訳を示したものです。資料Ⅰに見られるように、「江戸での費用」が必要なのはなぜですか。第3代将軍徳川家光が武家諸法度で定めた制度の名称を使い、簡単に書きなさい。(3問)

資料Ⅰ 松江藩における支出の内訳



(参勤交代の制度で、江戸で生活したから)

チャレンジ 2 幕府が鎖国下で行っていた政策の目的を読み取ろう!

(2) 資料Ⅱは、長崎につくられた人工の島です。ここで貿易を許されていた、ヨーロッパの国はどこですか。



(3) 幕府は(2)の国に、資料Ⅲのような「風説書」と呼ばれる報告書を提出させていました。その目的を、資料Ⅲを参考にして、簡単に書きなさい。

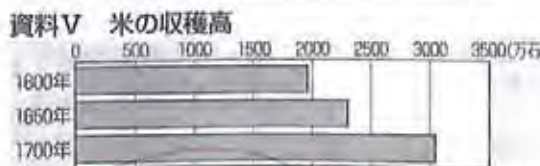
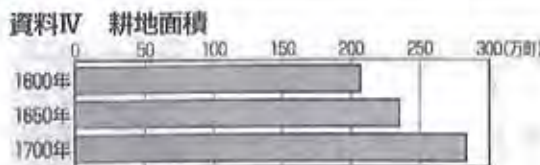
資料Ⅲ

- インド付近は静かであるが、ヨーロッパのフランス、イギリス、スペインの間で戦争が起こることも聞くが、今のところ明確でない。
- タイの王が交易のため、カルバク(バタビア)に使いを送ってくる。(文政十亥年風説書より部分要約)

(海外の情報を得るため)

チャレンジ 3 江戸時代に米の収穫高が増えた理由を読み取ろう!

(4) 資料Ⅳ・Ⅴから、1600年から1700年にかけて耕地面積と米の収穫高がともに増加していることがわかります。そのおもな要因となった、幕府や多くの藩が行った事業の目的と内容を、簡単に書きなさい。(長崎)



(年貢の増収をむかすために、新田の開墾などを進めた)

読み取り アドバイス

江戸幕府は大名を統制するために、どんな制度を定めていたかな。



「風説書」には、外国に関することが書いてあるようだね。



耕地面積が増えたことで、収穫高が上がったんだね。



弱点攻略マスター

思考・判断・表現は思, 技能は因, 知識・理解は無印

1 写真資料と絵画資料から時代の特徴をとらえよう
次の資料を見て、問いに答えなさい。



- (1) ものさしやますの大きさを統一して、Aのような政策が1582年から全国的に行われました。①政策の名称と、②行った人物名を書きなさい。
- (2) **記述** (1)①の政策と刀狩により、兵農分離が進みました。兵農分離とはどのようなことか、簡単に書きなさい。
- (3) Bは、どのような人たちを発見するために使われたのですか。
- (4) Cの①、②の農具を何といいますか。また、それぞれの用途を、次のア～エから1つずつ選びなさい。
ア もみを選別する イ 土を深く耕す
ウ 排水する エ 脱穀する
- (5) Dは、長崎での貿易の様子を示しています。18世紀後半、長崎での貿易を活発にするために銅の専売制を実施したり、俵物の輸出の拡大をはかったりした老中はだれですか。
- (6) (5)が老中のころ、杉田玄白などがヨーロッパの解剖書を翻訳した書物を出版しました。この書物を何といいますか。
- (7) Eは、19世紀ごろから登場するようになった、工場をつくり人々をやって(①)で製品をつくる、(②)(マニュファクチュア)のしくみをえがいたものです。①、②にあてはまる語句を書きなさい。

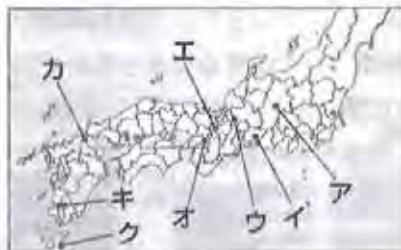
(3点×12)

①	大関検地	因
(1)	豊臣秀吉	
	武士と農民の	
(2)	区別をはっきり	思
	つけた。	
(3)	刈りこ	因
	名称 備中くわ	因
(a)	用途 イ	
(4)	名称 千歯臼	因
(b)	用途 エ	
(5)	田沼意次	
(6)	解剖新書	
①	工業	
(7)	② 工場制工業	

2 年表で近世についてまとめよう
右の年表を見て、問いに答えなさい。

- (1) ①～③に関係のある場所を、下の地図中のア～クから記号で1つずつ選びなさい。
- (2) Ⅰ～Ⅲにあてはまる人物名を、それぞれ書きなさい。
- (3) Aの宗教を伝えた人物は、何という団体の宣教師ですか。
- (4) Bの時期のできごとではないものを、次から1つ選びなさい。
〔朝鮮侵略 長篠の戦い 島原・天草一揆〕
- (5) 「C」中藤栗毛は十返舎一九が著したこっけい本です。五街道のうち、Cにあてはまる街道を書きなさい。
- (6) Dは、何というできごとの結果を受けて、緩和されましたか。

年代	できごと
1549	①キリスト教が伝わる……A
	↑ ↓ B
1600	②関ヶ原の戦いが起こる
1689	Ⅰが「おくの細道」の旅に出る
1798	Ⅱが国学を大成する
1802	「C」中藤栗毛が書かれる
1825	異国船打払令が出される……D
1837	③大塩の乱が起こる
1841	Ⅲが老中となる



2 (4点×10)

①	オ
(1) ②	ウ
③	オ
Ⅰ	松尾芭蕉
(2) Ⅱ	本居宣長
Ⅲ	水戸黄門
(3)	天竺会
(4)	島原・天草一揆
(5)	東海道
(6)	大塩の乱

3 文章資料から考えよう
次の資料を読んで、問いに答えなさい。

- A 幕府の許可なしに、婚姻を結んではならない。(武家諸法度)
- B 白河の清きに魚のすみかねて もとのにこりの田沼こひしき
- C ー [] は雑穀を食べ、米を多く食いつぶさぬようにせよ。
- D ー 人を殺しぬすんだ者 引き回しの上獄門
ー 追いはぎをした者 獄門

- (1) A～Dの資料を、出された順に並べなさい。
- (2) Aの武家諸法度には、のちに大名が1年おきに領地と江戸を往復することが制度として加えられました。①この制度を何といいますか。また、②そのときの江戸幕府の将軍はだれですか。
- (3) Bのような世相を皮肉った和歌を何といいますか。
- (4) Bの下線部は、白河(福島県)藩主で、老中となり、寛政の改革を行った人物を示しています。人物名を書きなさい。
- (5) ①Cの[]にあてはまる語句を書きなさい。また、②この触書は、何を確実に徴収するために出されたものですか。
- (6) 記述 Dは徳川吉宗が出した法律の一部です。どのような法律か、この法律の名称を入れて、簡単に書きなさい。

3 (3点×8)

(1)	A → C → D → B
(2)	① 世相歌 ② 徳川家光
(3)	狂歌
(4)	松平定信
(5)	① 百姓 ② 年貢

(6) 公断御定書という裁判の基準となる法律。