

3 Sさんの班では、歴史的分野で学習した内容を、次の地図中の**資料A**～**資料E**にまとめました。これを見て、問1～問5に答えなさい。(16点)

地図

資料D 安南国への渡航を許す文書

資料E 米価の安定に努めた「米將軍」の肖像画

資料A ワカタケル大王(倭王武)の名が刻まれた鉄剣。ワカタケル大王

資料B 当時の税を読みとることができる木簡(奈良県出土)

資料C 「花の御所」とよばれた京都の將軍の邸宅をえがいた絵

資料A 鉄剣が出土した稲荷山古墳(埼玉県)

資料B (解説文) 周防国大嶋郡美敢郷田部小足(注)田部小足は人名である。

資料C 田部小足 II 塩二斗

問1 地図中の**資料A**のような形をした古墳が、大和政権の支配の広がりにもなって、各地の豪族によってつくられるようになりました。地図中の「**⋯**」はそのおもな分布を示したものです。これを見て、次の(1)と(2)の問いに答えなさい。

- (1) **資料A**の鉄剣が出土した稲荷山古墳は、地図中に示す「**⋯**」の一例です。このような古墳を、その形から何といいますか、その名称を書きなさい。(2点)
- (2) 右の資料1は、ワカタケル大王(倭王武)が中国の宋の皇帝に送った手紙の一部です。資料1中の傍線部の内容からわかることをもとに、ワカタケル大王(倭王武)が中国の宋に使いを送った理由を説明しなさい。(4点)

資料1
倭王武の手紙(部分要約)
わたしの祖先は、自らよろいやかぶとを身につけ、山や川をかけめぐり、東は五十五国、西は六十六国、さらに海をわたって九十五国を平定しました。しかしわたしの使いが陛下のところには貢ぎ物を持っていくのを、高句麗がじゃまをします。今度こそ高句麗を破ろうと思えますので…
(宋書倭国伝)

問2 次は、地図中の**資料B**についてまとめたものです。地図中の**資料B**とまとめの中にある**I**、**II**にあてはまる税の名称を書きなさい。(3点)

奈良時代、人々は口分田の面積に応じて**I**を負担し、国や郡などの倉庫におさめた。このほかに一般の成人男子は、布や特産物を**II**や庸などの税として課され、都に運んだ。木簡には、周防国(山口県)から**II**として塩二斗がおさめられたと記されている。

問 3 地図中の **資料C** にえがかれた「花の御所」が將軍の邸宅として建てられた時代の文化について調べたところ、次の a、b の文と下の資料 2、資料 3 をみつけました。「花の御所」が將軍の邸宅として建てられた時代の文化の特色について述べた文と、その時代の代表的な文化財の組み合わせとして正しいものを、表中のア～エの中から一つ選び、その記号を書きなさい。(2点)

- a 茶の湯は、大名や大商人たちの交流の場となり、流行した。千利休は、名誉や富よりも内面の精神性を重視し、質素なわび茶の作法を完成させた。
- b 貴族や武士が愛好していた猿楽や田楽などの芸能は、観阿弥・世阿弥親子が能として大成し、武家の保護を受けた。

資料 2



ろくおん
鹿苑寺の金閣

資料 3



からじしずびょうふ
唐獅子図屏風

表

	文化の特色	代表的な文化財
ア	a	資料 2
イ	a	資料 3
ウ	b	資料 2
エ	b	資料 3

問 4 地図中の **資料D** があたえられた日本船が行った貿易について述べた文として、正しいものを、次のア～エの中から一つ選び、その記号を書きなさい。(2点)

- ア 明が倭寇の取りしまりを求めたため、正式な貿易船に、明からあたえられた勘合という証明書を持たせて貿易を始めた。
- イ 貿易の発展に努め、貿易船の保護を依頼したことにより、多くの日本人が海外に移住し、各地に日本町ができた。
- ウ 宋とは正式な国交が結ばれなかったが、両国の商人が交易を行った。瀬戸内海の航路が整備され、兵庫(神戸市)の港が整備された。
- エ 唐の制度や文化を取り入れようと遣唐使をたびたび送った。正倉院の宝物の中には遣唐使が持ち帰ったと考えられるものが数多くある。

問 5 次の X～Z について、地図中の **資料E** の人物が行った政策について述べた文として、その正誤の組み合わせが正しいものを、下のア～エの中から一つ選び、その記号を書きなさい。

(3点)

- X 公事方御定書という裁判の基準となる法律を定め、庶民の意見を聞く目安箱を設置した。また、キリスト教に関係しない科学技術などのヨーロッパの書物の輸入を認めた。
- Y 江戸の湯島に昌平坂学問所をつくり、ここでは朱子学以外の学問を教えることを禁じ、試験を行って人材の登用を図った。
- Z 異国船打払令をやめ、寄港した外国船には薪や水をあたえるよう命じた。また、江戸や大阪周辺の農村を幕領にしようとしたが、大名や旗本の強い反対にあって失敗した。

- ア X 正 Y 誤 Z 誤 イ X 正 Y 正 Z 誤
- ウ X 誤 Y 正 Z 正 エ X 誤 Y 誤 Z 正

4 次の年表をみて、問1～問5に答えなさい。(15点)

西暦(年)	できごと
1874	・民撰議院設立の建白書が提出される……………
1889	・大日本帝国憲法が公布される……………
1904	・日露戦争が始まる……………
1914	・第一次世界大戦が始まる……………
1931	・奉天郊外の柳条湖 <small>ほうてん りゅうじょうこ</small> で南満州鉄道の線路が爆破される……………
1945	・日本がポツダム宣言を受諾する……………
1975	・第1回主要国首脳会議(サミット)が開催される……………

問1 次の文章は、年表中Aの時期のある期間の政治についてまとめたものです。 にあてはまる人物名を書きなさい。(3点)

自由民権運動の高まりに対して政府では、国会の開設や憲法の制定をめぐる意見が分かれた。1881年、伊藤博文らは、憲法の即時制定と国会の早期開設という急進的な主張をしていた を政府から追い出すとともに、10年後に国会を開くことを約束した。自由民権運動は政党の結成へと進み、 は立憲改進黨をつくり、その党首となった。

問2 次の文章は、年表中Bの戦争について述べたものです。文章中の と にあてはまる語の組み合わせとして正しいものを、下のア～エの中から一つ選び、その記号を書きなさい。(2点)

日本は苦戦を重ねながらも戦争を有利に進めたが、やがて、日本とロシアの両国とも戦争の継続が困難になり、1905年、 の仲介により、ポーツマス条約が結ばれた。この条約によって、ロシアは日本に の割譲などを認めた。

- ア Y-イギリス Z-千島列島のすべての島
- イ Y-イギリス Z-北緯50度以南の樺太
- ウ Y-アメリカ Z-千島列島のすべての島
- エ Y-アメリカ Z-北緯50度以南の樺太

問 3 年表中Cの時期の日本における政治や社会の様子を述べた文として正しいものを、次のア～エの中から一つ選び、その記号を書きなさい。(2点)

- ア 満 20 歳になった男子に兵役の義務を負わせる徴兵令が出された。
- イ 農地改革が行われ、地主が持つ小作地を政府が強制的に買い上げて、小作人に安く売り渡した。
- ウ 満 25 歳以上の男子に選挙権をあたえる普通選挙法が成立した年に、治安維持法も制定された。
- エ 国家総動員法が公布され、政府は国の産業や経済から、国民の生活のすべてにわたって、戦争に動員できる権限を持った。

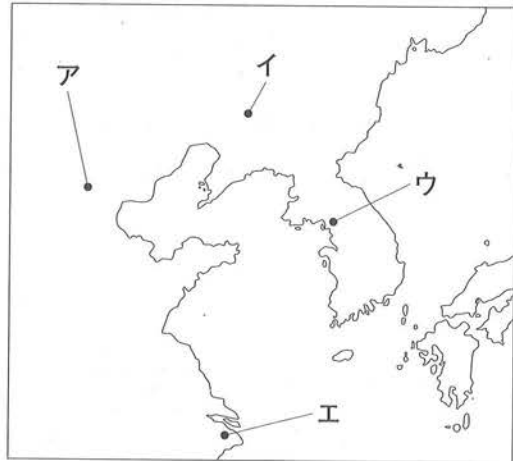
問 4 次の資料は、年表中Dについて調査するリットン調査団の様子です。この調査が行われた柳条湖の位置を、地図中のア～エの中から一つ選び、その記号を書きなさい。

また、リットン調査団の報告を受けて、国際連盟は、総会で満州国を認めず、日本軍の南満州鉄道沿線への撤兵を求める勧告を採択しました。これに対して日本は外交上どのような決定をしたか、書きなさい。(5点)

資料



地図



問 5 次のア～エは、年表中Eの時期の日本の国際関係に関するできごとについて述べた文です。年代の古い順に並べかえ、その順に記号で書きなさい。(3点)

- ア 日ソ共同宣言が調印され、ソ連との国交が回復し、同年、ソ連の支持も受けて国際連合に加盟した。
- イ 朝鮮戦争が始まり、在日アメリカ軍が出兵すると、GHQの指令で警察予備隊がつくられた。
- ウ 沖縄が日本に復帰した年に、日中共同声明によって、中国との国交を正常化した。
- エ 48 か国とサンフランシスコ平和条約を結ぶと同時に、アメリカと日米安全保障条約を結んだ。

5 Kさんのクラスでは、公民的分野の学習のまとめとして、それぞれ次のテーマを調べることになりました。これを見て、問1～問6に答えなさい。(25点)

	分野	テーマ
Kさん	社会の変化と「新しい人権」	「新しい人権」にはどのようなものがあるのか。
Lさん	裁判員制度	裁判員制度とはどのような制度か。
Mさん	国会の地位としくみ	衆議院と参議院ではどのような違いがあるのか。
Nさん	政府の経済活動と税金	税金にはどのような種類があるのか。
Oさん	政府の役割	経済において、政府はどのような役割をになっているのか。
Pさん	国際連合のしくみ	国際連合は国際社会でどのような働きをしているのか。

問1 Kさんは、「新しい人権」について調べたところ、「新しい人権」に関する裁判の事例をみつけ、次のようにまとめました。まとめの中の **A** と **B** にあてはまる語の組み合わせとして正しいものを、下のア～エの中から一つ選び、その記号を書きなさい。(3点)

まとめ

ある出版社が芸能事務所所属タレントの自宅住所などを掲載した本を出版しようとしてきました。これに対し芸能事務所側は **A** の侵害を理由に出版差し止めを求めましたが、出版社側は **B** を主張し、裁判で争われることになりました。裁判では、芸能事務所側の主張が認められ、本の出版は禁止されました。

- ア A-知る権利 B-表現の自由 イ A-プライバシーの権利 B-表現の自由
ウ A-知る権利 B-自己決定権 エ A-プライバシーの権利 B-自己決定権

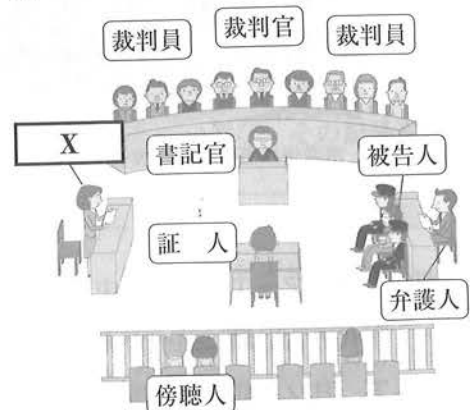
問2 Lさんは、裁判員制度について調べるために、地方裁判所に行って裁判の傍聴をしました。右の図は、そのときの裁判が行われた法廷の様子をあらわしたものです。図中の **X** は罪を犯した疑いのある者(被疑者)を被告人として裁判所に訴えます。

X にあてはまる語を書きなさい。

また、Lさんが傍聴した裁判を、次のア～エの中から一つ選び、その記号を書きなさい。(4点)

- ア 民事裁判の第一審
イ 民事裁判の第二審
ウ 刑事裁判の第一審
エ 刑事裁判の第二審

図



(法務省ホームページから作成)

問3 Mさんは、国会のしくみについて調べ、過去3回の参議院議員と衆議院議員の選挙の実施年月をまとめた表をつくりました。表中の **Y** にあてはまる数字を書きなさい。


また、衆議院議員の任期は4年ですが、表のように任期が終わる前に衆議院議員の選挙が行われた理由を簡潔に説明しなさい。(5点)

表 過去3回の参議院議員と衆議院議員の選挙の実施年月

参議院議員の選挙		衆議院議員の選挙	
回	実施年月	回	実施年月
第21回	平成19年7月	第45回	平成21年8月
第22回	平成 <input type="text" value="Y"/> 年7月	第46回	平成24年12月
第23回	平成25年7月	第47回	平成26年12月

問4 Nさんは、政府の経済活動について調べ、国の平成27年度一般会計当初予算(歳入)の内訳を示したグラフをつくりました。これを見て、次の(1)と(2)の問いに答えなさい。

グラフ



(1) グラフに示した内訳の中で、間接税にあたるものを、次のア～オの中からすべて選び、その記号を書きなさい。(3点)

ア 所得税 イ 法人税 ウ 消費税 エ 酒税 オ 公債金

(2) グラフ中の所得税は、累進課税の方法がとられています。所得税における累進課税の課税方法の特徴を書きなさい。(5点)

問5 Oさんは、景気の安定化に向けた政府の役割について調べ、次のようにまとめました。まとめの中の ～ にあてはまる語の組み合わせとして正しいものを、下のア～エの中から一つ選び、その記号を書きなさい。(3点)

まとめ

景気は不景気と好景気が交互に繰り返されます。不景気のときには、消費は低迷し、物価が下落する が起こることがあります。一般に、不景気のときには、政府は を行ったり公共事業への支出を させたりして景気の回復をうながします。このように、財政の活動を通じて景気の波を調節する政策のことを、財政政策といいます。

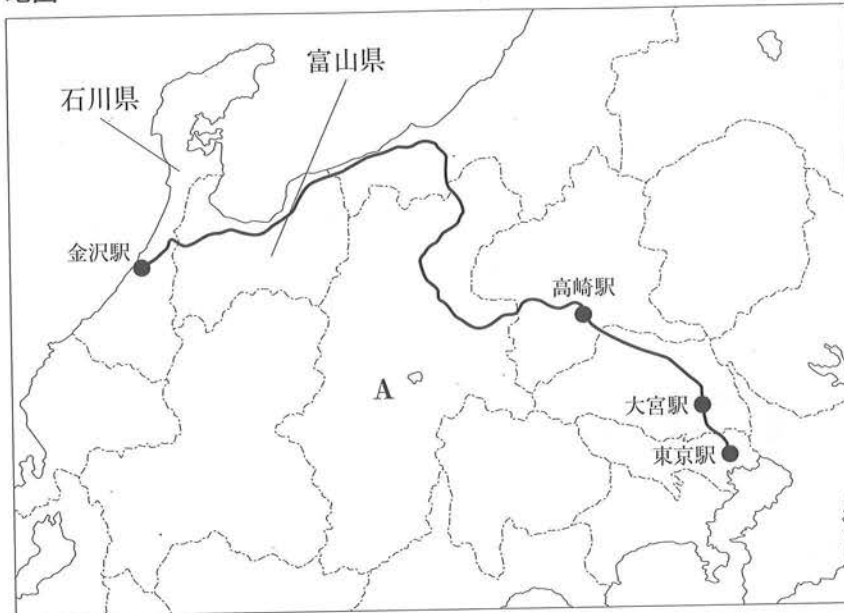
- | | | | |
|---|--------------|---------|----------|
| ア | I - インフレーション | II - 減税 | III - 削減 |
| イ | I - インフレーション | II - 増税 | III - 増加 |
| ウ | I - デフレーション | II - 増税 | III - 削減 |
| エ | I - デフレーション | II - 減税 | III - 増加 |

問6 Pさんは、国際連合の機関について調べました。国際連合の機関について述べた文として誤っているものを、次のア～エの中から一つ選び、その記号を書きなさい。(2点)

- ア 国際司法裁判所は、当事国の合意に基づき、国家間の紛争解決のための裁判を行う。
- イ 安全保障理事会において、常任理事国と非常任理事国は拒否権を持っている。
- ウ 専門機関には、国連教育科学文化機関(UNESCO)や世界保健機関(WHO)などがある。
- エ 総会はすべての加盟国からなり、年1回定期的に開かれる。

- 6 Hさんは、北陸新幹線を使って金沢まで旅行をすることになったので、沿線の各県について調べました。次の地図をみて、問1～問4に答えなさい。(15点)

地図



問1 地図中のAの県名を書きなさい。(3点)

問2 Hさんは、地図中の富山県の歴史について調べ、次のようにまとめました。文中の と にあてはまる語の組み合わせとして正しいものを、下のア～エの中から一つ選び、その記号を書きなさい。(3点)

1918年の をきっかけとした米の買いしめから、米の値段がおおはばに上がりました。富山県の魚津町(現在の魚津市)で始まった米の安売りを求める騒動は、新聞報道を通じて全国の主要な都市に広がり、米騒動に発展しました。

米騒動により寺内正毅内閣が退陣すると、衆議院第一党の立憲政友会総裁である が首相となり、本格的な政党内閣が成立しました。 は華族ではなかったことから「平民宰相」とよばれました。

- ア X-韓国併合 Y-原敬 イ X-シベリア出兵 Y-原敬
 ウ X-シベリア出兵 Y-桂 太郎 エ X-韓国併合 Y-桂太郎

問3 Hさんは、地図中の石川県の歴史について調べ、次のようにまとめました。まとめをみて、あとの(1)と(2)の問いに答えなさい。

まとめ

応仁の乱以後の時代を戦国時代といいます。この時代は、実力のある者が力をのばして上の者に打ち勝つ の風潮が広がって、戦国大名が各地に登場するようになりました。一方、石川県南部にあたる当時の加賀では、 への信仰で結びついた武士や農民が一揆を起こし、約100年にわたって自治を行いました。

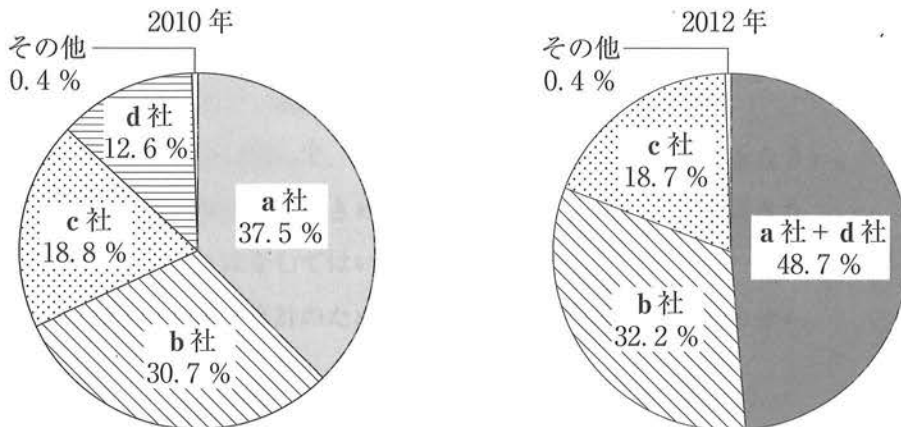
(1) まとめの中の I と II にあてはまる語の組み合わせとして正しいものを、次のア～エの中から一つ選び、その記号を書きなさい。(3点)

- ア I - 攘夷 II - 日蓮宗 イ I - 攘夷 II - 浄土真宗(一向宗)
 ウ I - 下剋上 II - 日蓮宗 エ I - 下剋上 II - 浄土真宗(一向宗)

(2) 下線部の戦国大名が、武士や領民の行動を取りしまり、領国を統一して支配するためにそれぞれの領国で独自に定めた法を何というか、その名称を書きなさい。(3点)

問 4 Hさんは、北陸地方で生産がさかんなある製品について、2010年と2012年における国内出荷量に占める企業別割合のグラフをみつけ、次のようにまとめました。文中の ① ~ ③ にあてはまる語の組み合わせとして最も適切なものを、下のア～エの中から一つ選び、その記号を書きなさい。(3点)

グラフ



(「日経シェア調査」2012年版、2014年版から作成)

企業は、 ① を増やすために、グラフ中の a 社と d 社のように、合併・買収などによって企業規模の拡大を図ることがあります。グラフをみると、ある製品の市場では ② が進んだことが読みとれます。一般に、 ② が進むと価格競争は弱まり、消費者が不利益をこうむることがあります。そこで、企業間の競争をうながすために ③ が制定され、公正取引委員会がこの法律の運用にあたっています。

- ア ① - 賃金 ② - 寡占化 ③ - 消費者基本法
 イ ① - 賃金 ② - 多様化 ③ - 独占禁止法
 ウ ① - 利潤 ② - 寡占化 ③ - 独占禁止法
 エ ① - 利潤 ② - 多様化 ③ - 消費者基本法

(以上で問題は終わりです。)